

TNUSRB
Psychology Test - 18

Q.1) கருத்துக்கள்:

- a. சில மீன்கள் நாய்களாக உள்ளன.
b. எந்த நாயும் குதிரைகளாக இல்லை.

முடிவுகள்:

- i) சில மீன்கள் நாய்களாக இல்லை.
ii) எல்லா மீன்களும் நாய்களாக இல்லை
iii) எல்லா நாய்களும் குதிரைகளாக உள்ளன.
iv) சில மீன்கள் குதிரைகளாக உள்ளன.
a) முடிவு ii, iii, iv சரி
b) முடிவு i மட்டும் சரி
c) முடிவு iii மட்டும் சரி
d) அனைத்தும் தவறு

Q.2) ஒரு சிறந்த அதிகாரியாக மாற நீங்கள் என்ன செய்வீர்கள்?

- a) நல்ல மனிதனாக நடந்து கொள்வேன்
b) உடல் நலத்தை நன்கு பாதுகாப்பேன்
c) உரிய பணியை சரியாக செய்து முடிப்பேன்
d) எவரையும் தண்டிக்க மாட்டேன்

Q.3) இவற்றில ;பொருத்தமற்றது எது?

- a) OWL b) END
c) PUT d) ARM

Q.4) இதயம் : பெரியகார்டியம்: மூளை: ?

- a) எலும்பு b) தலை
c) மண்டை ஓடு d) நரம்பு

Q.5) விடுபட்ட எழுத்தைக் காண்க

Z, S, W, O, T, K, Q, G, ?

- a) N, C b) N, D
c) J, K d) K, J

Q.6) ஒரு சங்கேத மொழியில் 'விமானம்' என்பது 'சைக்கிள்' எனவும், 'சைக்கிள்' என்று 'பேருந்து' எனவும், 'பேருந்து' என்பது 'கப்பல்' எனவும், 'கப்பல்' என்பது 'ரயில்' எனவும் 'ரயில்' என்பது 'கார்' எனவும் குறிக்கப்பட்டால் 'கலங்கரை விளக்கம்' எதற்கு வழிகாட்டும்?

- a) ரயில்
b) கப்பல்
c) விமானம்
d) பேருந்து

Q.7) காவல் துறையின் தலையாய கடமை

- a) ஒழுக்கத்தை நிலை நாட்டுவது
b) சட்டத்தை காப்பாற்றுவது
c) சட்டம் ஒழுங்கை நிலைநாட்டுவது
d) நீதியை காப்பாற்றுவது

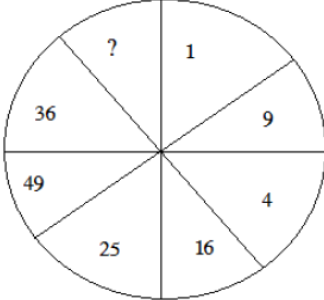
Q.8) 52 சீட்டுகள் கொண்ட ஒரு கட்டிலிருந்து ஒரு கார்டு எடுக்கப்படுகிறது. அந்த சீட்டு Queen club (or) king of diamond ஆக கிடைக்க நிகழ்தகவு என்ன?

- a) $\frac{1}{12}$
b) $\frac{1}{2}$
c) $\frac{1}{14}$
d) $\frac{1}{26}$

Q.9) ராஜீ தன்னிடமுள்ள நிலத்தை இரு பாதியாக பிரிக்கிறார். அதில் ஒரு பாதியை தன் நான்கு மகன்களுக்கும் 2 ஏக்கர் வீதம் பிரித்து கொடுக்கிறார். எனில் அவர் வைத்திருந்த மொத்த நிலம் எவ்வளவு?

- a) 15 ஏக்கர்
b) 20 ஏக்கர்
c) 16 ஏக்கர்
d) 18 ஏக்கர்

Q.10) கேள்விக்குறி உள்ள இடத்தில், கீழ்காணும் எண்களில் எது வரும்?



- a) 64
b) 81
c) 100
d) 125

Q.11) FLEXIGERATOR என்ற சொல்லிலுள்ள எழுத்துக்களை பயன்படுத்தி கீழ்க்கண்ட எந்த சொல்லை உருவாக்க இயலாது?

- a) XEROX
b) TAXI
c) GREATOR
d) LARGER

Q.12) கோடிட்ட இடத்தை நிரப்புக கோடிட்ட இடத்தை நிரப்புக

ab_bc_c_ba_c

a) baac

b) aabb

c) caab

d) aaab

Q.13) ஒருவர் ஒரு தேர்வில் தவறாக எழுதிய கேள்விகளை விட இரு மடங்கு சரியாக எழுதியுள்ளார். மொத்தம் அவர் 36 கேள்விகளுக்கு பதில் அளித்து 72 மதிப்பெண் பெற்று இருந்தால் சரியாக எழுதிய ஒவ்வொரு கேள்விக்கும் எத்தனை மதிப்பெண்?

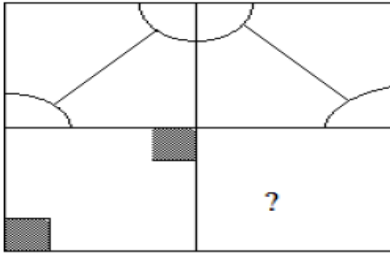
a) 3

b) 4


c) 2

d) 1


Q.14) கீழ்க்காணும் விடைகளில் எதைத் தேர்ந்தெடுத்து காலியான இடத்தில் பொருத்தினால் படம் முழுமை அடையும்?




a)




b)



c)



d)



Q.15) ஒரு பள்ளியில் 28 ஆசிரியர்கள் கணக்கு அறிவியல் பாடங்களை நடத்துகின்றனர், அவர்களில் 18பேர் கணக்கு பாடத்தையும் 9 பேர் கணக்கு மற்றும் அறிவியல் பாடத்தையும் நடத்துகிறார்கள் எனில் அறிவியல் பாடத்தை நடத்துவோர் எத்தனை பேர்?

- a) 10 b) 8
c) 12 d) 16

Q.16) பின்வரும் எண் தொடரில் விடுபட்ட எண்ணைக் காண்க.
3, 6, 18, 72, -----

- a) 144 b) 216
c) 288 d) 360

Q.17) 5 : 30, 7 : 42, 9 : 45, 8 : 48 தவறானது எது?

- a) 5 : 30 b) 7 : 42
c) 9 : 45 d) 8 : 48

Q.18) PRABA என்பதை 27595 என்றும் THILAK என்பதை 368451 என்றும் குறித்தால் BHARATHI என்பதை எவ்வாறு குறிக்கலாம்?

- a) 96755368 b) 95675368
c) 96575368 d) 96753568

Q.19) ரொட்டி என்பது கோதுமையுடன் தொடர்புடையது எனில் செங்கல் எதனுடன் தொடர்புடையது?

- a) கல் b) மண்
c) நீர் d) விறகு

Q.20) மூன்று பையன்களின் சராசரி வயது 25 வருடங்கள் மற்றும் அவர்களின் வயதுகளின் விகிதம் 3: 5 : 7 என்ற விகிதத்தில் உள்ளது. எனில் இளம் வயது உடைய பையனின் வயது காண்க.

- a) 21 b) 18
c) 15 d) 9

Q.21) ஒரு சதுர வயலின் மூலைவிட்டம் 64மீ. அதன் பரப்பளவு (சதுர மீட்டரில்)

- a) 1024 ச.மீ b) 2048 ச.மீ
c) 4096 ச.மீ d) 2096 ச.மீ

Q.22) ஒரு கடைக்காரர் 2 ரூபாய்க்கு 3 மிட்டாய்களை வாங்கினார், அவர் 50% இலாபம் பெற வேண்டுமானால் 1 ரூபாய்க்கு எத்தனை மிட்டாய்களை விற்க வேண்டும்?

- a) 4 b) 1
c) 5 d) 3

Q.23) சேகர் என்பவர் 2கி.மீ கிழக்கு திசையில் பயணம் செய்கிறார். பின்னர் அவர் வலப்புறமாக திரும்பி 300 மீட்டர் நடக்கிறார். மீண்டும் அவர் வலப்புறமாக 100 மீட்டர் நடக்கிறார். பின்னர் வலப்புறமாக 300 மீட்டர் நடக்கிறார். தற்போது அவர் ஆரம்பித்த இடத்திலிருந்து எவ்வளவு தொலைவில் உள்ளார்?

- a) 300 மீ b) 1700 மீ
c) 200 மீ d) எதுவுமில்லை

Q.24) ஒரு வரிசையில் 40 மாணவர்கள் வடக்கு திசையை பார்த்து அமர்ந்திருக்கிறார்கள். ராஜேஷ்யுடைய 6வது இடதுபக்கத்தில் சுரேஷ் அமர்ந்துள்ளார். அந்த வரிசையில் இடதுபக்க இறுதியிலிருந்து 30வது இடத்தில் ராஜேஷ் அமர்ந்திருந்தால், வலதுபக்க இறுதியிலிருந்து சுரேஷ் எந்த இடத்தில் இருப்பார்?

- a) 17
b) 16
c) 15
d) இதில் எதுவும் இல்லை

Q.25) நேற்றைய முன்தினம் வியாழன் என்றால் ஞாயிறு கிழமையானது என்றைக்கு வரும்?

- a) நாளை
b) நாளைக்கு மறுநாள்
c) இன்று
d) எதுவுமில்லை

Q.26) இதனுடன் தொடர்புடைய எண்ணை தேர்ந்தெடுக்க?
24618 : 21 :: 87352 : ?

- a) 25 b) 50
c) 30 d) 20

Q.27) வேறுபட்ட ஒன்றைத் தேர்ந்து எடுக்கவும்?

- a) WZT b) KNH
c) RUQ d) DGA

Q.28) பின்வரும் எண் தொடரில் விடுபட்ட எண்ணைக் காண்க
1, 8, 27, 64, 125, ?

- a) 172 b) 176
c) 216 d) 189

Q.29) கொடுக்கப்பட்ட வார்த்தைகளை பொருள் தரும் வகையில்
வரிசைப்படுத்துக.

- 1) தங்கம் 2) இரும்பு
3) மண் 4) பிளாட்டினம்
5) வைரம்
a) 2, 4, 3, 5, 1 b) 3, 2, 1, 5, 4
c) 4, 5, 1, 3, 2 d) 5, 4, 3, 2, 1

Q.30)

9	5
14	4
18	10
28	8
36	20
56	?

- a) 15 b) 46
c) 16 d) 17