

TNUSRB Psychology Test - 17

Q.1) 25 குழந்தைகள் வடக்கு திசை பார்த்து உள்ளனர். இப்போது லோகேஷ் என்பவர் தற்போது இருக்கும் இடத்தில் இருந்து நான்கு இடம் வலது பக்கத்திற்கு மாற்றப்படுகிறார். தற்போது அவர் வலப்பக்கத்திலிருந்து 10 வது இடத்தில் உள்ளார் எனில் ஆரம்பத்தில் அவர் அந்த வரிசையின் இடதுபுறத்தில் இருந்து எத்தனையாவது இருந்திருப்பார்?

- a) 12
- b) 8
- c) 11
- d) இதில் எதுவும் இல்லை

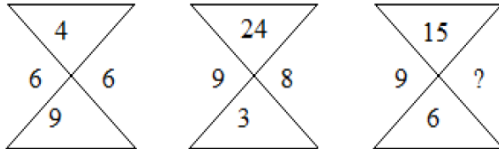
Q.2) ACADEMY என்பது ஒரு குறிப்பிட்ட மொழியில் DCEAYAM என்று குறிப்பிட்டால் ACHIEVE என்பது எவ்வாறு குறியிடப்படும்?

- a) ICEAVHE
- b) ICAEHEV
- c) ICEAEHV
- d) IEACHVE

Q.3) தனியாக தரையில் நிற்கும் இரண்டு கம்பங்களின் உயரங்கள் முறையே 7 மீ மற்றும் 12 மீ. ஆவற்றின் அடிப்பக்கங்களுக்கு இடைப்பட்ட தூரம் 12 மீ எனில் அவற்றின் மேல் இடைப்பட்ட தூரம்

- a) 17மீ
- b) 15மீ
- c) 13மீ
- d) 19மீ

Q.4) கேள்விக்குறி உள்ள இடத்தில், கீழ்காணும் எண்களில் எது வரும்?



- a) 6
- b) 8
- c) 10
- d) 12

Q.5) கீழ்க்கண்ட ஆங்கில வார்த்தை, ஆங்கில அகராதியில் வரிசைப்படுத்தப்பட்டால் மூன்றாவது வரும் வார்த்தை எது?

- a) Plane
- b) Plain
- c) Plenty
- d) Player

Q.6) தந்தையின் வயது தனது மகன் ரோகித்தை விட 4 மடங்குகள் அதிகம். 8 ஆண்டுகள் பிறகு அவரின் வயது மகளின் வயதை விட $2\frac{1}{2}$ மடங்கு அதிகம் எனில் மேலும் 10 ஆண்டுகளில் அவரின் வயது மகனின் வயதை விட எத்தனை மடங்குகள் இருக்கும்?

- a) $1\frac{13}{12}$ b) $1\frac{12}{13}$
c) $1\frac{15}{14}$ d) $1\frac{14}{15}$

Q.7) 1, 5, 5, 9, 7, 11, 11, 15, 12, 17 இவற்றுள் தவறான எண்ணை காண்க.

- a) 11 b) 15
c) 17 d) 12

Q.8) P யின் கணவர் B, E யின் ஒரே ஒரு பேரன் Q, Dயின் மனைவி E. P யின் மாமியார் E. Dக்கு B என்ன உறவு?

- a) சகோதரர் b) மருமகன்
c) சகோதரன் d) மகன்

Q.9) இவற்றுள் வேறுபட்டதை காண்க.

- a) 169 b) 121
c) 225 d) 196

Q.10) ஜனவரி 1, 1992 புதன் கிழமை எனில் வாரத்தின் எந்த நாளானது ஜனவரி 1, 1993?

- a) செவ்வாய் b) புதன்
c) வியாழன் d) வெள்ளி

கீழுள்ள பகுதியை தொடர்ந்து பல அனுமானங்கள் தரப்பட்டுள்ளன. அவற்றை ஆராய்ந்து 11 முதல் 15 வரையுள்ள கேள்விகளுக்கு மாற்று விடைகளிலிருந்து சரியான விடையை அளிக்கவும்.

தங்கத்தின் தாதுபொருளை பாதுகாப்பதில் இந்தியா மிக பின்னிலையில் உள்ளது. தற்போது கர்நாடகத்தில் உள்ள, உலகத்தின் மிக ஆழமான கோலார் சுரங்கத்திலும், ஹட்டி சுரங்கத்திலும், தங்கம் வெட்டி எடுக்கப்படுகிறது. ஆந்திர பிரதேசத்தின் அனந்தபூர் மற்றும் சித்தூர் மாவட்டங்களிலுள்ள இரு சுரங்கங்களும் தாமதமாக பணி செய்ய தொடங்கின. இவற்றில் 81000 கிலோ கிராம் உள்ளதாக தெரிகிறது. வருடாந்திர தங்க உற்பத்தி குறைந்து கொண்டு வருகிறது. அதன் அளவு 1951ல் 7000 கி.கிராமாக இருந்தது. 1986ல் 1931 கி.கிராமாக குறைந்துள்ளது.

- Q.11) தங்க உற்பத்தி 35 வருடங்களில் 72.41மூ ஆக குறைந்துள்ளது.
a) நிச்சயமாக சரி
b) சரியாக இருக்கலாம்
c) தவறாக இருக்கலாம்
d) நிச்சயமாக தவறு
- Q.12) உலகத்திலுள்ள சுரங்கங்களில் மிக ஆழமானது ஹட்டி சுரங்கமாகும்.
a) நிச்சயமாக தவறு
b) தவறாக இருக்கலாம்
c) சரியாக இருக்கலாம்
d) நிச்சயமாக சரி
- Q.13) இந்தியா வெளிநாடுகளிலிருந்து தங்கத்தை இறக்குமதி செய்கிறது.
a) சரியாக இருக்கலாம்
b) நிச்சயமாக சரி
c) போதிய தகவல் இல்லை
d) நிச்சயமாக தவறு
- Q.14) இந்தியாவிடம் 81000 கி.கிராம் மேல் தங்க சேமிப்பு இல்லை.
a) நிச்சயமாக தவறு
b) தவறாக இருக்கலாம்
c) நிச்சயமாக சரி
d) சரியாக இருக்கலாம்
- Q.15) கோலார் தங்கச் சுரங்கம், மிக அதிக அளவு தங்கம் உற்பத்தி செய்கிறது.
a) சரியாக இருக்கலாம்
b) தவறாக இருக்கலாம்
c) போதிய தகவல் இல்லை
d) நிச்சயமாக தவறு
- Q.16) ஒரு கோளத்தின் ஆரத்தைப் போல 4 மடங்கு நீளமுள்ள ஒரு கம்பியை உருக்கி அதே ஆரமுள்ள எத்தனை கோளங்கள் செய்யலாம்?
a) 3
b) 5
c) 4
d) 6

Q.17) $\frac{7}{8} - \frac{7}{x} + \frac{9}{16} = 1$ எனில் x ன் மதிப்பு

- a) 2 b) 5
c) $3 \frac{13}{24}$ d) 16

Q.18) A, B மற்றும் C கூட்டுத்தொழில் செய்கின்றனர். மொத்த முதலீட்டில் A பங்கு மூன்றில் ஒன்றாகும். A மற்றும் C சேர்ந்து செய்யும் முதலீட்டளவில் B முதலீடு செய்கின்றனர். ஆண்டு முடிவில் இலாபம் ரூ.840 என்றால் அவர்கள் ஒவ்வொருவரும் பெறும் பங்கு எவ்வளவு?

- a) A = ரூ.280, B = ரூ.420, C = ரூ.140
b) A = ரூ.270, B = ரூ.410, C = ரூ.160
c) A = ரூ.290, B = ரூ.420, C = ரூ.130
d) A = ரூ.240, B = ரூ.400, C = ரூ.200

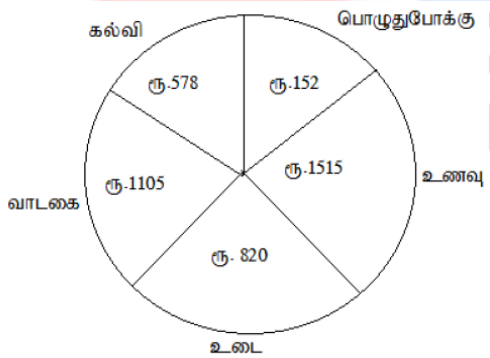
Q.19) Y ல் 90% X எனில், X ல் Y எத்தனை சதவீதம்?

- a) 90 b) 190
c) 101.1 d) 111.1

Q.20) 2, 7, 14, 23, ...?, 47 என்ற தொடரில் ? என்ற இடத்தில் உள்ள எண் எது?

- a) 35
b) 34
c) 33
d) இவற்றில் எதுவுமில்லை

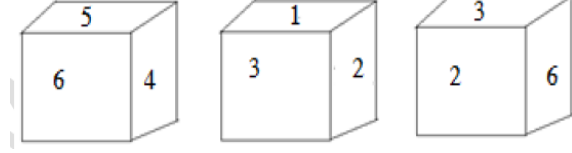
Q.21) வட்ட விளக்கப்படம் பல்வேறு இனங்களின் செலவினத்தை காட்டுகிறது. படத்தை ஆராய்ந்து கொடுக்கப்பட்ட வினாவிற்கு விடையளி.



எந்த செலவினம் மொத்த செலவினத்தில் 20% ஆக உள்ளது?

- a) உணவு b) வாடகை
c) உடை d) கல்வி

Q.22) கொடுக்கப்பட்டுள்ள பகடையில் 1க்கு எதிரே உள்ள எண்



- a) 3
b) 4
c) 5
d) 6

Q.23) ROSE என்பது TQUG என அழைக்கப்படுமாயின் BLUE எவ்வாறு அழைக்கப்படும்?

- a) YQSF
b) DNWG
c) DMQF
d) CDFG

Q.24) மணி 2.15 இருக்கும் போது நிமிட முள்ளுக்கும் மணி முள்ளுக்கும் இடையே உள்ள கோணம் என்ன?

- a) 30°
b) $22 \frac{1}{2}^\circ$
c) $27 \frac{1}{2}^\circ$
d) இவை எதுவும் இல்லை

Q.25) '+' என்றால் 'x', '-' என்றால் '+'. 'x' என்றால் \div மற்றும் \div என்றால் '-' எனில் $84 \times 28 + 8 \div 10 - 9$ ன் மதிப்பு?

- a) 23
b) 22
c) 30
d) 26

Q.26) AB என்பது 12ம் CD என்பது 23ம் BD என்பது 24ம் ஆனால் CBAD என்பது என்னவாகும்?

- a) 1234
b) 2134
c) 3214
d) 43112

Q.27) நான்கு இலக்க மிகச்சிறிய முழு வர்க்க எண்?

- a) 1000
b) 1016
c) 1024
d) 1036

Q.28) எந்த ஒன்று மற்ற மூன்றிலிருந்து வித்தியாசமானது?

- a) ஆப்பிள்
b) மாம்பழம்
c) தர்பூசணி
d) கொய்யாப்பழம்

Q.29) சியாமை விட ராம் பணக்காரன் ஆனால் மோகனைப் போல் அவ்வளவு பணக்காரன் அல்ல ஆனால் ரமேஷை விட ஏழை அப்படியானால் சியாம்?

- a) ரமேஷை விட ஏழை
- b) மோகனை விட பணக்காரன்
- c) மோகனைப் போல் ஏழை
- d) ரமேஷை விட பணக்காரன்

Q.30) ஒரு விலங்கியல் பூங்காவில், மான்களும் மயில்களும் உள்ளன. அவற்றின் தலைகளின் எண்ணிக்கை 80. அவற்றின் கால்களின் எண்ணிக்கை 200 எனில் எத்தனை மயில்கள் உள்ளன?

- a) 20
- b) 30
- c) 50
- d) 60