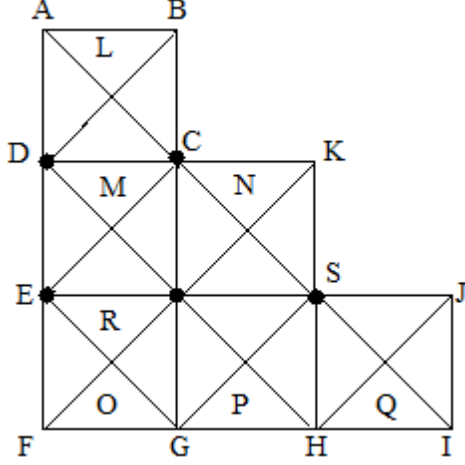


TNUSRB
Psychology Test - 16

- Q.1) சரியான விடையைத் தேர்ந்தெடுக்கவும்.
எச்சரிக்கையாயிருக்கிற : விழிப்புள்ள : வாழக்கூடிய : ?
a) சாத்தியமான
b) பெருந்தன்மையான
c) சுறுசுறுப்பான
d) நம்பிக்கையற்ற
- Q.2) எந்த ஒன்று மற்ற மூன்றில் இருந்து வேறுபடுகிறது?
a) ஆலோசகர் b) நடுவர்
c) மத்தியஸ்தர் d) ஆட்ட நடுவர்
- Q.3) இராமனின் பயிற்சியாளர் வைப்பு அறையிலிருந்து 16 பந்துகளைக் கொண்டு வர சொல்கிறார். இராமன் ஒரு முறை 3 பந்துகளைத் தான் கொண்டு வர முடியும். எல்லா பந்துகளையும் கொண்டுவர இராமன் எத்தனை முறை வைப்பு அறைக்கு செல்ல வேண்டும்?
a) 4 b) 4½
c) 5 d) 6
- Q.4) இன்புளுயன்சா : வைரஸ் :: டைபாய்டு ?
a) ஆல்கா b) பாக்டீரியா
c) பூஞ்சை d) அமீபா
- Q.5) இரு வட்டக் கூம்புகளின் உயரங்களின் விகிதம் 2 : 3 அவற்றின் அடிச்சுற்றளவுகளின் விகிதம் 3 : 5 அவற்றின் கன அளவுளின் விகிதம்?
a) 2 : 5 b) 6 : 15
c) 6 : 25 d) 3 : 15
- Q.6) வேறுபட்டதை தேர்ந்தெடு : நுரையீரல், சிறுநீரகம், இதயம், கண்
a) நுரையீரல் b) சிறுநீரகம்
c) இதயம் d) கண்
- Q.7) 6 மணிக்கும் 7 மணிக்கும் இடையே எந்த நிமிடங்களில் பெரிய முள்ளும், சிறிய முள்ளும் ஒன்றை ஒன்று தொடும்?
a) 6 hr 35 $\frac{2}{11}$ Min b) 6 hr 32 $\frac{8}{11}$ Min

c) 6 hr 30 $\frac{16}{10}$ Mind) 5 hr 13 $\frac{32}{11}$ Min

Q.8)



மேலே கொடுக்கப்பட்டுள்ள படத்தில் எத்தனை சதுரங்கள் உள்ளன என தேர்ந்தெடுக்க?

- a) 14 c) 13
b) 12 d) 10

Q.9) கொடுக்கப்பட்ட எண் தொடர் 96053781 இதில் முதல் மற்றும் மூன்றாவது இடத்தில் உள்ள எண்கள் ஒன்றின் இடத்தில் மற்றொன்று என்று இடம் மாற்றப்படுகிறது. இதே போன்று ஐந்து - ஏழு, இரண்டு - நான்கு, ஆறு - எட்டு, ஆகிய இடங்களில் உள்ள எண்கள் ஒன்றின் இடத்தில் மற்றொன்று என்று இடம் மாற்றப்படுகிறது எனில் வலதுபுறம் இருந்து வேறு எண் என்ன?

- a) 9 b) 0
c) 5 d) 6

Q.10) சரண் என்பவர் முன்புறம் இருந்து 14வது நபராகவும், ஜான் என்பவர் அவரில் இருந்து முன்புறம் 7வது நபராகவும், மேலும் பின்புறம் இருந்து 13வது நபராகவும் உள்ளார் எனில் அந்த வரிசையில் உள்ள மொத்த நபர்கள் எத்தனை பேர்?

- a) 21 b) 22
c) 23 d) 20

Q.11) ஒரு பகடையை ஒரு முறை உருட்டும் போது 3ஐ விட பெரிய எண் கிடைத்த நிகழ்தகவு.

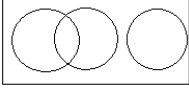
- a) $\frac{1}{4}$ b) $\frac{3}{4}$

c)1

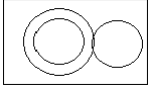
d) 1/2

Q.12) கொடுக்கப்பட்ட வார்த்தைகளுக்கு ஏற்ற படம் எது?
பட்டு, கதர், பனியன்

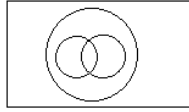
a)



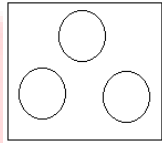
b)



c)



d)



Q.13) 16 – 24, 14 – 28, 36 – 13, 6 – 18, பொருத்தமற்றது எது?

a) 16 – 24

b) 14 – 28

c) 36 – 13

d) 6 – 18

Q.14) இன்று வெள்ளிக் கிழமை எனில் 111 நாள் கழித்து என்ன கிழமை வரும்?

a) புதன்

b) சனி

c) வியாழன்

d) ஞாயிறு

Q.15) செயலை செய்ய விடாமல் தடுப்பதால் ஏற்படும் மனநிலை

a) மன ஒருமைப்பாடு

b) மனமுறிவு

c) மன அமைதி

d) மனப்போராட்டம்

Q.16) 6 சட்டை மற்றும் 5 வேட்டிகளின் விலையானது ரூ.1900 ஆகும். 2 சட்டை 5 வேட்டிகளில் விலையானது ரூ.1300 எனில் 10 வேட்டி மற்றும் 10 சட்டைகளின் விலை என்ன?

a) 3300

b) 3000

c) 3500

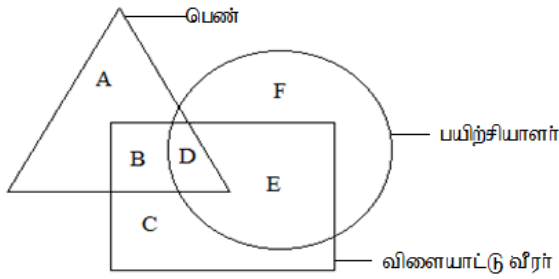
d) 3800

Q.17) நீவிர் சார்பு ஆய்வாளர் பணியைத் தேர்ந்தெடுக்க காரணம்.

- a) அதிகச் சம்பளம் b) நன்மதிப்பு
c) சமூகப் பணி d) பொழுதுபோக்கு

Q.18) கீழ்க்காணும் படத்தில் முக்கோணம் என்பது பெண்களையும், சதுரம் என்பது விளையாட்டு வீரர்களையும், வட்டம் என்பது பயிற்சியாளர்களையும் குறிக்கிறது எனில் பயிற்சியாளராக உள்ள பெண் விளையாட்டு வீரர் யார்?

- a) A b) B
c) D d) E



Q.19) FRIEND என்பதனை RFEIDN என்று எழுதினால் MOTHER என்பதை எவ்வாறு எழுதலாம்?

- a) OMHTRE b) OMTHRE
c) OMHRTE d) OMTHER

Q.20) விடுபட்ட இடத்தை நிரப்புக : 10 : 101 :: 8 : _____

- a) 64 b) 65
c) 66 d) 63

Q.21) ஒரு வகுப்பில் 50 மாணவர்கள் உள்ளனர். அதில் மாணவனின் எண்ணிக்கையில் 3 ல் 2 பங்கு மாணவிகள் உள்ளனர் எனில், அந்த வகுப்பில் உள்ள மாணவ மாணவியர் எத்தனை பேர்?

- a) 24, 26 b) 15, 35
c) 20, 30 d) 30, 20

Q.22) REPRIMAND என்ற வார்த்தையில் இருந்து கீழ்க்காணும் எந்தச் சொல்லை உருவாக்க இயலும்?

- a) MAIDEN b) PRISON
c) MONDANE d) READY

Q.23) இதனுடன் தொடர்புடைய எழுத்தைக் காண்க

AB : GH :: LM : _____

- a) RS b) QR
c) NO d) KL

Q.24) ஆக்கத்திறனின் முக்கியமான தன்மை என்பது?

- a) சிறந்த நினைவாற்றல்
b) முன் அனுபவம்
c) தனித்தன்மை
d) நல்லபேச்சுதிறன்

Q.25) சேரர், பல்லவர், சந்தேலர், சோழர் வேறுபட்டதை காண்

- a) சேரர் b) பல்லவர்
c) சந்தேலர் d) சோழர்

Q.26) '+' என்பது \times எனவும், '-' என்பது $+$ எனவும், \times என்பது \div எனவும், \div என்பது $-$ எனவும் கொண்டால் $75 \times 15 \div 100 - 20 + 4$ ன் மதிப்பு யாது?

- a) 15 b) 20
c) -15 d) -20

Q.27) CD, RS, VW, QP இவற்றில் பொருந்தாது எது?

- a) CD b) RS
c) VW d) QP

Q.28) பொருள் தரும் வகையில் வரிசைப்படுத்துக.

1. தண்டனை 2. சிறை
3. கைதி 4. குற்றம்

5. நீதிபதி
a) 5, 1, 2, 3, 4 b) 4, 3, 5, 2, 1
c) 4, 3, 5, 1, 2 d) 2, 3, 1, 4, 5

Q.29) 60 நிமிடங்கள் என்பது

- a) 1 வினாடி
- b) 1 பாகை
- c) 1 செங்கோணம்
- d) இவற்றுள் எதுவுமில்லை

Q.30) கீழ்க்கண்டவற்றுள் மாறுபட்டது எது?

- a) Floppy disk
- b) Keyboard
- c) CPU
- d) Mouse

