

**TNUSRB**  
**Psychology Test - 29**

Q.1) 4 உறுப்பினர்கள் கொண்ட குடும்பத்தின் சராசரி வயது 15 ஆண்டுகள். இன்றிலிருந்து இருபது ஆண்டுக்கு பின்னர், சராசரி வயது என்ன?

- a) 20 ஆண்டுகள்  
b) 60 ஆண்டுகள்  
c) 35 ஆண்டுகள்  
d) 30 ஆண்டுகள்

Q.2) ஓர் எண்ணிலிருந்து 35ஐ கழிக்க அந்த எண் தன் மதிப்பில் 20 சதவீதமாக குறைக்கப்படுகிறது. அந்த எண்ணின் 5ல் 4 மடங்கு யாது?

- a) 70  
b) 80  
c) 90  
d) 140

Q.3) கீழே கொடுக்கப்பட்டுள்ள படத்தில் ஒரு சதுரமானது பல்வேறு அறைகளாக பிரிக்கப்பட்டு அறைகளில் உள்ள எண்கள் ஒரு விதிமுறையின் அடிப்படையில் எழுதப்பட்டுள்ளது. அதில் ஒரு எண் மட்டும் தவறுதலாக விடப்பட்டுள்ளது. அவ்வெண்ணைக் காண்க?


- a) 12  
b) 15  
c) 30  
d) 16

Q.4) தவறான எண் எது? 5,11,21,47,90,191,383

- a) 11  
b) 47  
c) 191  
d) 90

Q.5) IAS என்பதற்கு KCU குறியிடானால் TNPSC க்கு குறியீடு என்ன?

- a) UPSCE  
b) VPRUE  
c) SSRBE  
d) BSRBA

Q.6) நீ ஒரு கனசதுரத்தை ஒருமுறை உருட்டினால், உனக்கு இரட்டைப்படை எண் கிடைக்க நிகழ்த்தகவு (அல்லது வாய்ப்பு) என்ன?

- a) 1/6  
b) 2/3  
c) 1/2  
d) 1/4

Q.7) ரமணி என்பவர் 2004 ஆம் ஆண்டு மார்ச் மாதம் 21ம் தேதி பிறந்தார். ரவி என்பவர் அதற்கு 7 நாட்களுக்கு முன் பிறந்தார். அந்த வருடத்தின் குடியரசு தினம் திங்கள்கிழமையில் அமைந்ததால் ரவியின் பிறந்தநாள் எந்த கிழமையில் அமைகிறது?

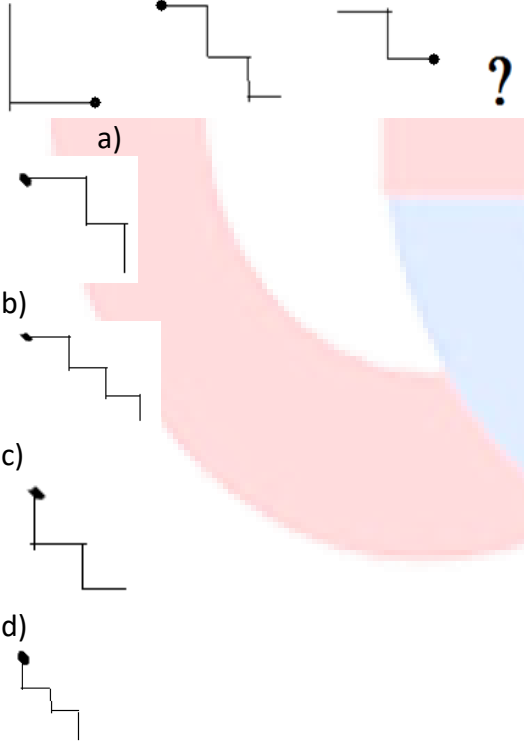
- ஞாயிற்றுக்கிழமை
- திங்கள்கிழமை
- சனிக்கிழமை
- செவ்வாய்கிழமை

Q.8) ஒரு குறியீட்டு முறையில் + என்பது  $\div$  யும், - என்பது  $\times$  யும்  $\div$  என்பது - யும்,  $\times$  என்பது + குறிக்குமானால் கீழ்க்கண்ட தன் மதிப்பைக் கணக்கிடுக.

$$8+6+4-7\times 3$$

- $-23/2$
- 12
- $42/3$
- $-71/3$

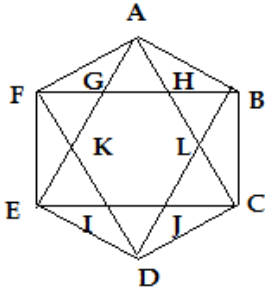
Q.9) விடுபட்ட படம் யாது?



Q.10) கிடை வரிசையில் அமர்ந்துள்ள மாணவர்களில் ராகுல் அமர்ந்துள்ள இடம் வலது புறமிருந்து 12வதாகவும் இடது புறமிருந்து 4வதாகவும் உள்ளது. எத்தனை மாணவர்களை சேர்த்தால் மொத்த மாணவர்களின் எண்ணிக்கை 28 ஆக இருக்கும்?

- a) 14                      b) 13  
c) 20                      d) 18

Q.11) பின்வரும் படத்தில் எத்தனை முக்கோணங்கள் உள்ளன என தேர்ந்தெடுக்க?



- a) 18                      b) 20  
c) 26                      d) 32

Q.12) M, P, J, B, R, T மற்றும் F ஆகியோர் வட்ட வடிவில், வட்டத்தின் மையத்தை நோக்கி அமர்ந்துள்ளனர். B என்பவர் J க்கு இடப்புறம் மூன்றாவதாக அமர்ந்துள்ளார் மற்றும் J என்பவர் M க்கு இடப்புறம் இரண்டாவதாக அமர்ந்துள்ளார். P என்பவர் B க்கு இடப்புறம் மூன்றாவதாக அமர்ந்துள்ளார் மற்றும் R க்கு வலப்புறம் இரண்டாவதாக அமர்ந்துள்ளார். T என்பவர் M க்கு அருகில் (உடனடியாக) அமரவில்லை.

i) பின்வரும் எந்த ஜோடியில் இரண்டாவது நபர் முதல் நபருக்கு உடனடியாக வலப்புறம் அமர்ந்துள்ளார்?

- a) JR                      b) PJ  
c) TR                      d) MP

Q.13) ஒரு குறிப்பிட்ட சங்கேத மொழியில் "GIVE" என்பது "VIEG" என்றும், "OVER" என்பது "EVRO" என்றும் குறியிடப்பட்டால் "DISK" என்பது எவ்வாறு குறியிடப்படும்?

- a) SIDK                      b) KDSI  
c) SIKD                      d) KISD

Q.14) வேறுபட்ட ஒன்றை தேர்ந்தெடுக்க?

- a) டேபிள்                      b) மேசை  
c) அலமாரி                      d) கணிப்பொறி

Q.15) ஒரு பெண் ஒருவரைப் பார்த்து அவர் என்னுடைய அம்மாவின் ஒரே பையன் எனில் அவருக்கு அந்த பெண் என்ன உறவு?

- a) அம்மா
- b) மருமகள்
- c) மகள்
- d) அத்தை

Q.16) 5-50, 8-128, 9-180, 11-242 பொருத்தமற்றது எது?

- a) 5-50
- b) 8-128
- c) 9-180
- d) 11-242

Q.17)  $75 : 149 :: 45 : \dots\dots\dots$  இதனுடன் தொடர்புடைய எண்ணை தேர்ந்தெடுக்க?

- a) 90
- b) 89
- c) 85
- d) 100

Q.18) புத்தகம் என்பது பதிப்பகத்துடன் தொடர்புடையது எனில் திரைப்படம் எதனுடன் தொடர்புடையது?

- a) எழுத்தாளர்
- b) இயக்குநர்
- c) பாடகர்
- d) தயாரிப்பாளர்

Q.19) ஒரு சங்கேத மொழியில் நீதிமன்றம் என்பது காவல்நிலையம் எனவும், காவல் நிலையம் என்பது மருத்துவமனை எனவும், மருத்துவமனை என்பது பள்ளிக்கூடம் எனவும், பள்ளிக்கூடம் என்பது மைதானம் எனவும், மைதானம் என்பது வீடு எனவும் குறிக்கப்பட்டால், 'மருத்துவர்கள்' எங்கே இருப்பார்கள்?

- a) மருத்துவமனை
- b) நீதிமன்றம்
- c) பள்ளிக்கூடம்
- d) மைதானம்

Q.20) பொருள் தரும் வகையில் வரிசைப்படுத்துக.

- 1) திசு
  - 2) உறுப்பு
  - 3) உறுப்புமண்டலம்
  - 4) செல்
  - 5) உடல்
- a) 4,1,2,3,5
  - b) 4,5,3,2,1
  - c) 3,2,4,1,5
  - d) 4,1,3,2,5

Q.21) இரு பகடைகளை உருட்டும்போது கூட்டுத்தொகை 9 (அ) 10 கிடைக்க நிகழ்தகவு என்ன?

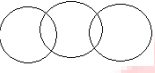
- a) 7/36                      b) 6/36  
c) 3/36                      d) 36

Q.22) கொடுக்கப்பட்ட வார்த்தைகளுக்கு ஏற்ற படம் எது? சிறைச்சாலை, காவல்நிலையம், நீதிமன்றம்

a)



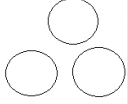
b)



c)



d)



Q.23) ஒரு ரகசிய மொழியில் Pod na joc என்றால் Very bright boy என்றும், tam nu pod என்றால் the boy comes என்றும், nu per ton என்றால் keep the doll என்றும், joc ton su என்றால் very good doll என்றும் பொருள் எனில், boy என்பதன் ரகசிய மொழி என்ன?

- a) tam                      b) ton  
c) pod                      d) joc

Q.24) CREAM என்பதை 25137 என்றும் BEAR என்பதை 8135 என்றும் குறித்தால் REMEMBER என்பதை எவ்வாறு குறிக்கலாம்?

- a) 51717815  
b) 5177815  
c) 51771185  
d) 5711815

Q.25) தந்தை மற்றும் மகனின் வயது கூடுதல் 45 ஆண்டுகள் . 5 ஆண்டுகளுக்கு முன்பு அவர்களின் வயது பெருக்கல் மதிப்பு 34. மகன் மற்றும் தந்தையின் வயது முறையே என்ன?

- a) 5, 29                      b) 6, 39  
c) 4, 49                      d) 15, 21

