

TNSURB Police Constable 2020

Psychology Model test-3

Q.1) மனிதன் ஒருவன் தெற்கு நோக்கி நிற்கிறான். அவன் 135° எதிர்க்கடிகார திசையில் திரும்புகிறான் மற்றும் 180° கடிகார திசையில் திரும்பினால் அவன் எத்திசையை நோக்கி நிற்பான்?

- a) வடகிழக்கு b) வடமேற்கு
c) தென்கிழக்கு d) தென்மேற்கு

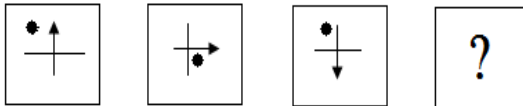
Q.2) கொடுக்கப்பட்டுள்ள எண் 3648127905. இதில் முதல் மற்றும் இரண்டாம் எண்கள் ஒன்றின் இடத்தில் மற்றொன்றும் மூன்றாம் - நான்காம், ஐந்தாம் ஆறாம், இது போன்று மற்ற எண்களும் இடம் மாற்றப்படுகின்றன, எனில் வலது புறத்திலிருந்து 4வதாக எந்த எண் இருக்கும்?

- a) 9 b) 7
c) 3 d) 8

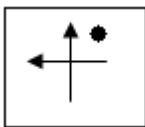
Q.3) காவல்துறை என்பது யாருடைய நிர்வாக பொறுப்பினைச் சார்ந்தது?

- a) மத்திய அரசு
b) மாநில அரசு
c) குடியரசு தலைவர்
d) தனிப்பட்ட அமைப்பு

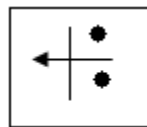
Q.4) பின்வரும் படங்களில் அடுத்து வருவது



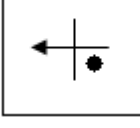
a)



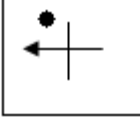
b)



c)



d)



Q.5) ஒரு ரகசிய மொழியில்; Ski rps tri என்றால்; nice Sunday morning என்றும், teh stri rps என்றால்; every Tuesday morning என்றும், Ski ptr qlm என்றால்; nice market என்றும் பொருள் Sunday என்பதன் ரகசிய மொழி என்ன?

- a) ski
c) tri

- b) rps
d) qlm

EXAMS DAILY

Q.6) $100 > 121 > 144 > 169 > \underline{\quad}$ விடுபட்ட எண்ணைக் காண்க.

- a) 195
c) 196

- b) 194
d) 200

Q.7) மனிதனின் அறிவு வாயில்கள் எனப்படுவது?

- a) புலன்காட்சி
c) புலன் உறுப்புகள்

- b) நினைவு
d) உள்ளுணர்வு

Q.8) கடிகாரம் : நேரம் :: தெர்மா மீட்டர் :: ?

- a) குளிர்ச்சி
c) ஆற்றல்

- b) கதிர்வீச்சு
d) வெப்பநிலை

Q.9) + என்பது ÷ எனவும், - என்பது + எனவும், ஓ என்பது - எனவும், ÷ என்பது X எனவும் கொண்டால் $24 + 8 \div 2 - 7 \times 3 -$ மதிப்பு யாது?

- a) 10
c) 20

- b) 12
d) 25

Q.10) ஒரு சங்கேத மொழியில் 'சிங்கம்' என்பது 'மான்' எனவும், 'மான்' என்பது "நரி" எனவும், 'நரி' என்பது 'புலி' எனவும், 'புலி' என்பது 'முயல்' எனவும், முயல் என்பது 'நாய்' எனவும் குறிக்கப்பட்டால் "நம் தேசிய விலங்கு" எது?

a) முயல் b) சிங்கம்
c) நரி d) புலி

Q.11) ராம் பீமை விட 8 வயது இளையவன். அவர்களின் வயது விகிதம் 7 : 9 எனில் ராம் வயது என்ன?

a) 20 b) 40
c) 48 d) 28

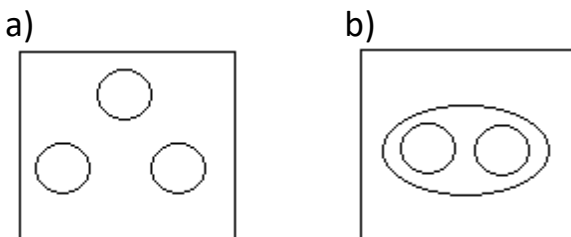
Q.12) 12 மணி 5 நிமிடங்கள் என்ற நேரத்தில் பெரிய முள்ளுக்கும் சிறிய முள்ளுக்கும் இடையே அமையும் கோணம் காண்க?

a) 26.5° b) 22.5°
c) 28.5° d) 27.5°

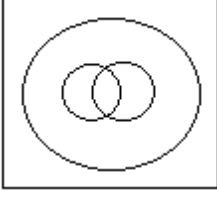
Q.13) DEMONSTRATION என்ற சொல்லிலுள்ள எழுத்துகளைப் பயன்படுத்தி கீழ்க்கண்ட எந்த சொல்லை உருவாக்க இயலாது?

a) RATION b) NATIVE
c) MONSTER d) NATION

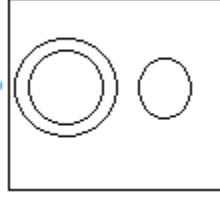
Q.14) கொடுக்கப்பட்ட வார்த்தைகளுக்கு ஏற்ற படம் எது? மலை, பூமி, காடு



c)



d)



Q.15) கூற்று I : சில பூக்கள் காய்களாக உள்ளன.
கூற்று II: சில காய்கள் விதைகளாக உள்ளன.
முடிவுகள் :

- i) சில காய்கள் பூக்களாக உள்ளன.
 - ii) சில விதைகள் பூக்களாக உள்ளன.
 - iii) எல்லா காய்களும் விதைகளாக உள்ளன.
 - iv) எல்லா விதைகளும் பூக்களாக உள்ளன.
- a) முடிவு i மட்டும் சரி
 - b) முடிவு i, iv சரி
 - c) முடிவு ii, iii, iv சரி
 - d) அனைத்தும் சரி

Q.16) 31 மாணவர்கள் மட்டுமே உள்ள வகுப்பில் நீங்கள் 13 வது இடத்தில் உள்ளீர்கள் என்றால், கடைசியலிருந்து நீங்கள் எத்தனாவது இடத்தில் இருப்பீர்கள்?

- a) 15
- b) 18
- c) 20
- d) 19

Q.17) ஒரு வருடத்தின் அக்டோபர் மாதத்தின் 25ம் நாள் வியாழக்கிழமை எனில் அந்த மாதத்தின் எத்தனை திங்கட்கிழமைகள் வரும்?

- a) 4
- b) 5
- c) 3
- d) 2

Q.18) R என்பது 2 என்றும், 'T' என்பது 4 என்றும், 'M' என்பது 5 என்றும், 'J' என்பது 3 என்றும், 'W' என்பது 6 என்றும் குறியிடப்படுமாயின் பின்வரும் எண்களில் எது TJWR என்பதை குறியிடும் சரியான எண்ணாக இருக்கும்?

- a) 4362 b) 4526
c) 4625 d) 4325

Q.19) ஓடோமீட்டர் : வேகம் :: ஸ்பைக்மோனோ மீட்டர் : ?

- a) வெப்ப அழுத்தம்
b) இரத்த அழுத்தம்
c) ஈரப்பதம்
d) மின்சாரம்

Q.20) ஒரு மனிதரைக் குறித்து தீபக் கூறுகிறார், "அவருடைய ஒரே சகோதரர் என்னடைய மகளின் அப்பாவின் அப்பா". எனில், அந்த மனிதர் தீபக்கிற்கு என்ன உறவு?

- a) தாத்தா b) அப்பா
c) தந்தை வழி மாமா d) பாக்கன்

Q.21) $0 > 8 > 24 > 48 > 80 > ?$ அடுத்த எண்ணை காண்க.

- a) 110 b) 96
c) 120 d) 140

Q.22) கீழே கொடுக்கப்பட்ட வார்த்தைகளை பொருள் தரும் வகையில் வரிசைப்படுத்துக.

1. வறுமை
 2. மக்கள் தொகை பெருக்கம்
 3. இறப்பு
 4. வேலையின்மை
 5. நோய்
- a) 3, 4, 2, 5, 1 b) 2, 4, 1, 5, 3
c) 2, 3, 4, 5, 1 d) 1, 2, 3, 4, 5

Q.23) மணி 4.15 ஆகும் போது மணிமுள்ளுக்கும் நிமிடமுள்ளும் இடைப்பட்ட கோணம் எவ்வளவு?

- a) 37.5° b) 45°
c) 90° d) 60°

Q.24) ஆங்கில அகராதியில் இரண்டாவதாக இடம் பெறும் சொல் எது?

- a) Sunday b) Sunrise
c) Sustain d) Super

Q.25) தொடர் : சில புத்தகங்கள் பேனாக்கள் ஆகும்.

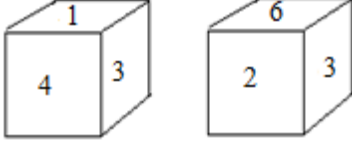
: எல்லா பேனாக்களும் தாள்கள் ஆகும்.

முடிவு : I. சில தாள்கள் புத்தகங்கள் ஆகும்.

: II. எல்லாப் புத்தகங்களும் தாள்கள் ஆகும்.

- a) முடிவு I மட்டும் சரி
b) முடிவு II மட்டும் சரி
c) முடிவு I அல்லது முடிவு II சரி
d) இரண்டும் தவறு

Q.26) கீழே கொடுக்கப்பட்டுள்ள கனகதூரத்தில் '5' என்ற எண் கீழே காணப்பட்டால் மேலே இருக்கும் எண் எது?



- a) 1 b) 2
c) 3 d) 4

Q.27) விடுபட்ட எண்ணை காண்க.

	16	
14	5	70
	?	

- a) 80 b) 60
c) 40 d) 20

Q.28) பின்வரும் தகவல்களை கவனமாக படித்து அதன் கீழே உள்ள வினாக்களுக்கு தகுந்த பதில் அளிக்கவும்.

எட்டு நண்பர்கள் J, K, L, M, N, O, P மற்றும் Q வட்ட வடிவில்

வட்டத்தின் மையத்தை நோக்கி அமர்ந்துள்ளனர். J என்பவர்

N க்கு அருகில் இல்லை. L என்பவர் K க்கு வலப்புறம் மூன்றாவதாக அமர்ந்துள்ளார். Q என்பவர் N க்கு இடப்புறம் இரண்டாவதாக அமர்ந்துள்ளார் மற்றும் M என்பவர் L க்கு வலப்புறம் அமர்ந்துள்ளார். O என்பவர் N அல்லது K க்கு அருகில் இல்லை. ஆனால் P க்கு இடப்புறம் உடனடியாக அமர்ந்துள்ளார்.

பின்வருவனவற்றில் எந்த தொகுதியில் முதல் நபர் அடுத்த இரு நபருக்கு நடுவில் அமர்ந்துள்ளார்?

- a) PKJ
- b) JQL
- c) QNL
- d) Nkw;fz;l vJTk; ,y;iy

Q.29) 2013ல் ஒரு நகரத்தின் மக்கள் தொகை, 1,25,000. அடுத்த ஆண்டில் அது 7% பெருகுமானால் 2014ல் மக்கள் தொகையை காண்க.

- a) 8750
- b) 133750
- c) 11620
- d) 125000

Q.30) i) M க்கு மேற்கு திசையில்; N உள்ளது.
ii) N க்கு கிழக்கு திசையில்; P உள்ளது.
iii) P க்கு வடக்கு திசையில்; R உள்ளது.
எனில், M ஐ பொறுத்து R நிற்கும் திசை என்ன?

- a) தென்மேற்கு
- b) தென் கிழக்கு
- c) தெற்கு
- d) கண்டுபிடிக்க இயலாது