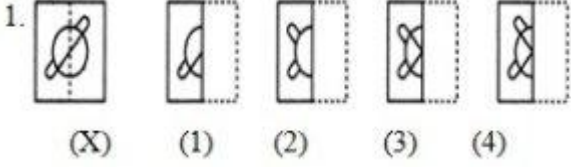


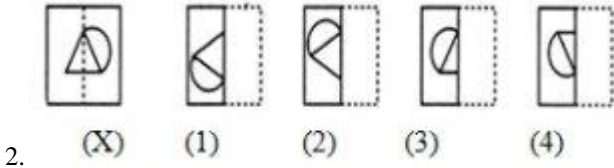
Paper Folding

பின்வரும் சிக்கல்களில் ஒவ்வொன்றிலும் ஒரு சதுர வெளிப்படையான தாள் (எக்ஸ்) வழங்கப்படுகிறது. வெளிப்படையான தாள் புள்ளியிடப்பட்ட வரிசையில் மூடப்பட்டிருக்கும் போது இந்தத் தகடு எப்படி தோன்றும் என்பதற்கான நான்கு மாற்றுகளுக்கு இடையில் இருந்து கண்டுபிடிக்கவும்.



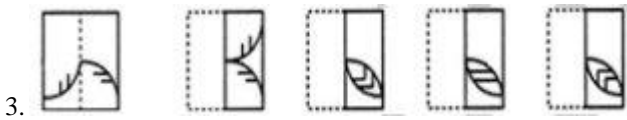
A. 1
C. 3

B. 2
D. 4



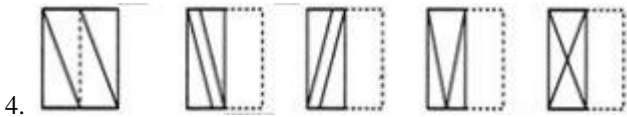
A. 1
C. 3

B. 2
D. 4



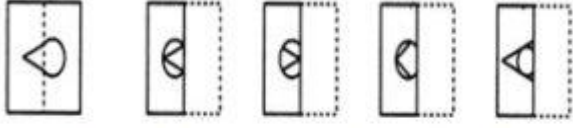
A. 1
C. 3

B. 2
D. 4



A. 1
C. 3

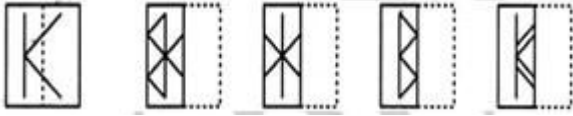
B. 2
D. 4



5. (X) (1) (2) (3) (4)

A. 1
C. 3

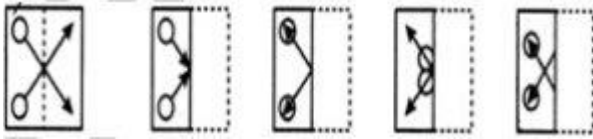
B. 2
D. 4



6.

A. 1
C. 3

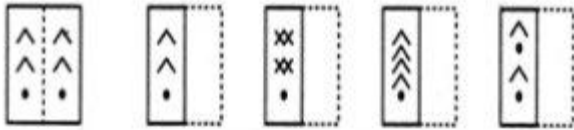
B. 2
D. 4



7.

A. 1
C. 3

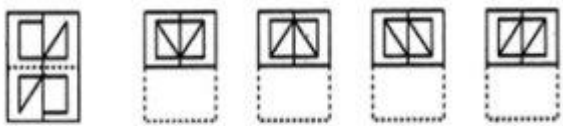
B. 2
D. 4



8. (X) (1) (2) (3) (4)

A. 1
C. 3

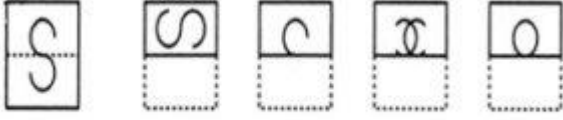
B. 2
D. 4



9. (X) (1) (2) (3) (4)

A. 1
C. 3

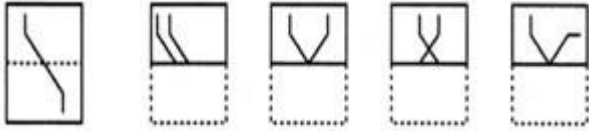
B. 2
D. 4



10. (X) (1) (2) (3) (4)

A. 1
C. 3

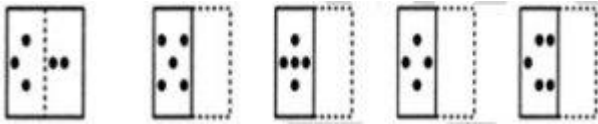
B. 2
D. 4



11. (X) (1) (2) (3) (4)

A. 1
C. 3

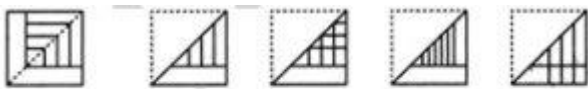
B. 2
D. 4



12.

A. 1
C. 3

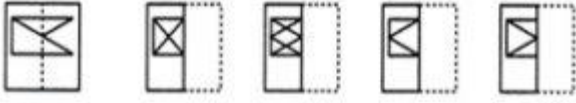
B. 2
D. 4



13. (X) (1) (2) (3) (4)

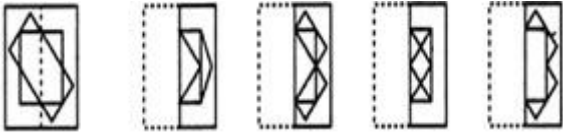
A. 1
C. 3

B. 2
D. 4



14. (X) (1) (2) (3) (4)

- A. 1 B. 2
C. 3 D. 4



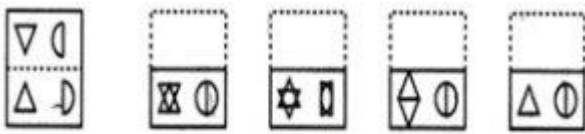
15. (1) (2) (3) (4)

- A. 1 B. 2
C. 3 D. 4



16. (1) (2) (3) (4)

- A. 1 B. 2
C. 3 D. 4



17. (X) (1) (2) (3) (4)

- A. 1 B. 2
C. 3 D. 4

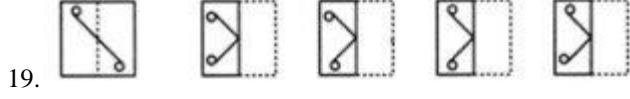


18. (X) (1) (2) (3) (4)

- A. 1 B. 2

C. 3

D. 4

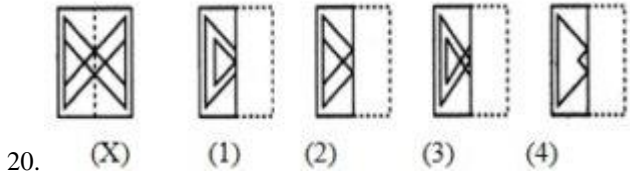


A. 1

B. 2

C. 3

D. 4



A. 1

B. 2

C. 3

D. 4

1. விடை : D
2. விடை : C
3. விடை : D
4. விடை : D
5. விடை : A
6. விடை : C
7. விடை : B
8. விடை : A
9. விடை : A
10. விடை : D
11. விடை : B
12. விடை : B
13. விடை : A
14. விடை : D
15. விடை : B
16. விடை : D
17. விடை : D
18. விடை : D
19. விடை : C
20. விடை : B

[Download Static GK PDF](#)

WhatsApp  Group -ல் சேர – [கிளிக் செய்யவும்](#)

Telegram Channel  [கிளிக் செய்யவும்](#)