

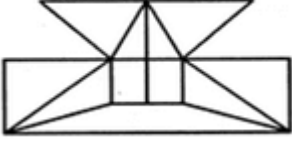
Analytical Reasoning

1. கொடுக்கப்பட்ட படத்தில் எத்தனை முக்கோணங்கள் உள்ளன ?



- A. 8
B. 10
C. 12
D. 14

2. கொடுக்கப்பட்ட படத்தில் குறைந்தபட்சம் எத்தனை நேர்க்கோடுகள் உள்ளன ?



- A. 16
B. 17
C. 18
D. 19

3. கொடுக்கப்பட்ட படத்தில் எத்தனை முக்கோணங்கள் உள்ளன ?



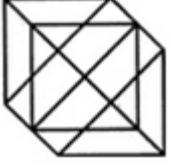
- A. 22
B. 24
C. 26
D. 28

4. கொடுக்கப்பட்ட படத்தில் எத்தனை முக்கோணங்கள் உள்ளன ?



- A. 12
B. 18
C. 22
D. 26

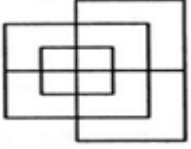
5. கொடுக்கப்பட்ட படத்தில் எத்தனை முக்கோணங்கள் உள்ளன ?



- A. 18
C. 24

- B. 20
D. 27

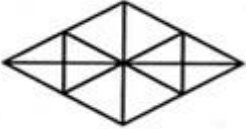
6. கொடுக்கப்பட்ட படத்தில் குறைந்தபட்சம் எத்தனை நேர்க்கோடுகள் உள்ளன ?



- A. 13
C. 17

- B. 15
D. 19

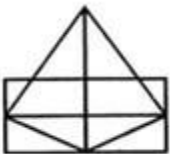
7. கொடுக்கப்பட்ட படத்தில் எத்தனை முக்கோணங்கள் உள்ளன ?



- A. 16
C. 28

- B. 22
D. 32

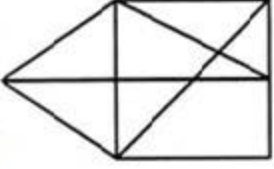
8. கொடுக்கப்பட்ட படத்தில் எத்தனை முக்கோணங்கள் உள்ளன ?



- A. 11
C. 15

- B. 13
D. 17

9. கொடுக்கப்பட்ட படத்தில் எத்தனை முக்கோணங்கள் உள்ளன ?



ஈ

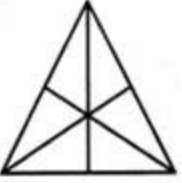
A. 12

B. 13

C. 14

D. 15

10. கொடுக்கப்பட்ட படத்தில் எத்தனை முக்கோணங்கள் உள்ளன ?



A. 16

B. 13

C. 9

D. 7

11. கொடுக்கப்பட்ட படத்தில் எத்தனை முக்கோணங்கள் உள்ளன ?



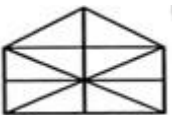
A. 21

B. 23

C. 25

D. 27

12. கொடுக்கப்பட்ட படத்தில் எத்தனை முக்கோணங்கள் உள்ளன ?



A. 10

B. 19

C. 21

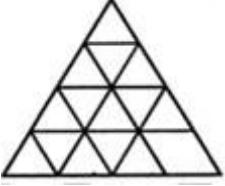
D. 23

13. கொடுக்கப்பட்ட படத்தில் எத்தனை முக்கோணங்கள் உள்ளன ?



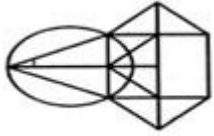
- A. 5
B. 6
C. 8
D. 10

14. கொடுக்கப்பட்ட படத்தில் குறைந்தபட்சம் எத்தனை நேர்க்கோடுகள் உள்ளன ?




- A. 5
B. 6
C. 8
D. 10

15. கொடுக்கப்பட்ட படத்தில் எத்தனை முக்கோணங்கள் உள்ளன ?



- A. 10
B. 12
C. 14
D. 16

16. கொடுக்கப்பட்ட படத்தில் எத்தனை சதுரங்கள் உள்ளன ?



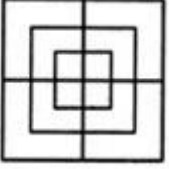
- A. 32
B. 30
C. 29
D. 28

17. கொடுக்கப்பட்ட படத்தில் நாற்கரம் எத்தனை உள்ளன ?



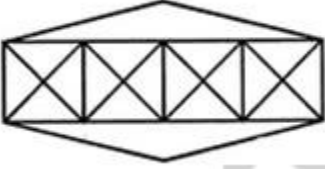
- A. 6
C. 9
- B. 7
D. 11

18. கொடுக்கப்பட்ட படத்தில் எத்தனை சதுரங்கள் உள்ளன ?



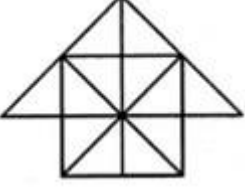
- A. 8
C. 15
- B. 12
D. 18

19. கொடுக்கப்பட்ட படத்தில் எத்தனை சதுரங்கள் மற்றும் முக்கோணங்கள் உள்ளன ?



- A. 36 முக்கோணங்கள், 7 சதுரங்கள்
- B. 38 முக்கோணங்கள், 9 சதுரங்கள்
- C. 40 முக்கோணங்கள், 7 சதுரங்கள்
- D. 42 முக்கோணங்கள், 9 சதுரங்கள்

20. கொடுக்கப்பட்ட படத்தில் எத்தனை சதுரங்கள் மற்றும் முக்கோணங்கள் உள்ளன ?



- A. 26 முக்கோணங்கள், 5 சதுரங்கள்
 B. 28 முக்கோணங்கள், 5 சதுரங்கள்
 C. 26 முக்கோணங்கள், 6 சதுரங்கள்
 D. 28 முக்கோணங்கள், 6 சதுரங்கள்

விடைகள் :

1. D
2. B
3. D
4. B
5. C
6. A
7. C
8. C
9. D
10. A
11. D
12. C
13. D
14. B
15. C
16. B
17. D

18. C

19. D

20. C

WhatsApp  Group -ல் சேர – [கிளிக் செய்யவும்](#)

Telegram Channel  [கிளிக் செய்யவும்](#)